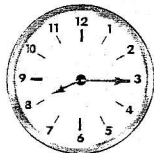


# Lire l'heure

## Je retiens

- Pour lire l'heure sur une horloge ou sur une montre, il faut regarder la petite aiguille pour les heures et la grande aiguille pour les minutes.

La petite aiguille indique 8 heures.



La grande aiguille indique 15 minutes.

Comment lit-on l'heure quand c'est l'après-midi ?

Tu ajoutes 12 au chiffre des heures. 2 h le matin, l'après-midi c'est  $2 + 12 = 14$  h.



Il est 8 heures et 15 minutes, j'écris : 8 h 15 min ou huit heures et quart.

## Je m'entraîne

- 1 Coche les cases quand les affirmations sont exactes.

- a.  La grande aiguille indique les minutes.
- b.  La petite aiguille indique les heures.
- c.  Il est « et quart » quand la grande aiguille est sur le 9.
- d.  Il est « la demie » quand la grande aiguille est sur le 6.
- e.  7 h 45 et huit heures moins le quart, c'est la même heure.

- 2 Colorie d'une même couleur les étiquettes qui indiquent la même heure.

neuf heures et quart

9 : 15

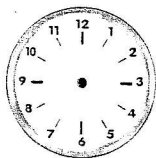
9 h 30

neuf heures quinze

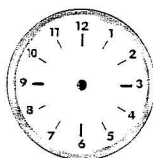
9 h 15

neuf heures et demie

- 3 Dessine les aiguilles.



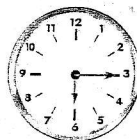
5 h 15



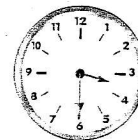
8 h 45

## J'approfondis

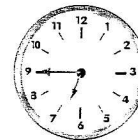
- 4 Écris l'heure sous chaque horloge : 3 h 30 – 18 h 15 – 6 h 45.



a. ....

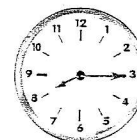


b. ....

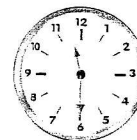


c. ....

- 5 Lis et écris l'heure affichée par chaque horloge.



a. Le matin : .....



b. L'après-midi : .....

- 6 Toni, Léa et Medhi ont rendez-vous au cinéma à quatorze heures quarante-cinq.



Toni



Léa



Medhi

- a. Qui est arrivé en retard ? .....
- b. Qui est arrivé en avance ? .....
- c. Qui est arrivé à l'heure ? .....