


Lire l'heure (2)

Dans une journée il y a **24 heures**.


Les nombres écrits sur le cadran indiquent les heures.

Pour donner l'heure de l'après-midi, j'ajoute 12.



Matin : 3 h 00 min

Après-midi : 15 h 00 min




Le matin, je dis :	L'après-midi, je dis :
1 h	13 h
2 h	14 h
...	...
11 h	23 h
Midi (12 h)	Minuit (24 h → 00 h)

As-tu bien compris ?




Ecris les heures du matin et de l'après-midi de chaque horloge



Matin : h min

Après-midi : h min




Matin : h min

Il est « ».

Après-midi : h min

Il est « ».



Matin : h min

Après-midi : h min